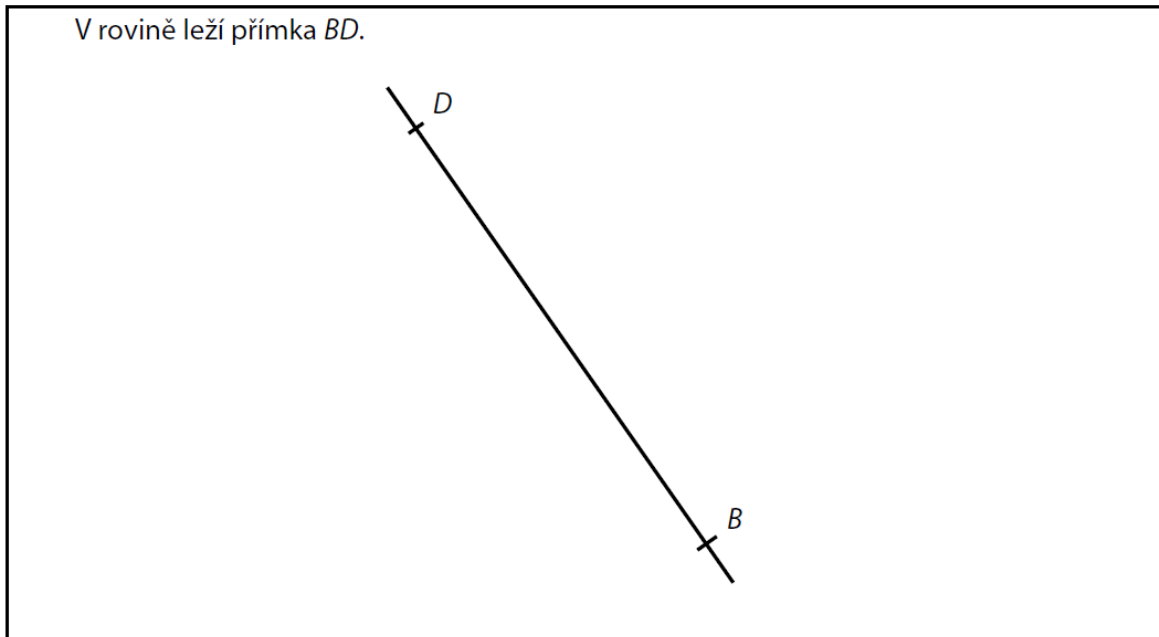


VÝCHOZÍ TEXT A OBRÁZEK K ÚLOZE 10

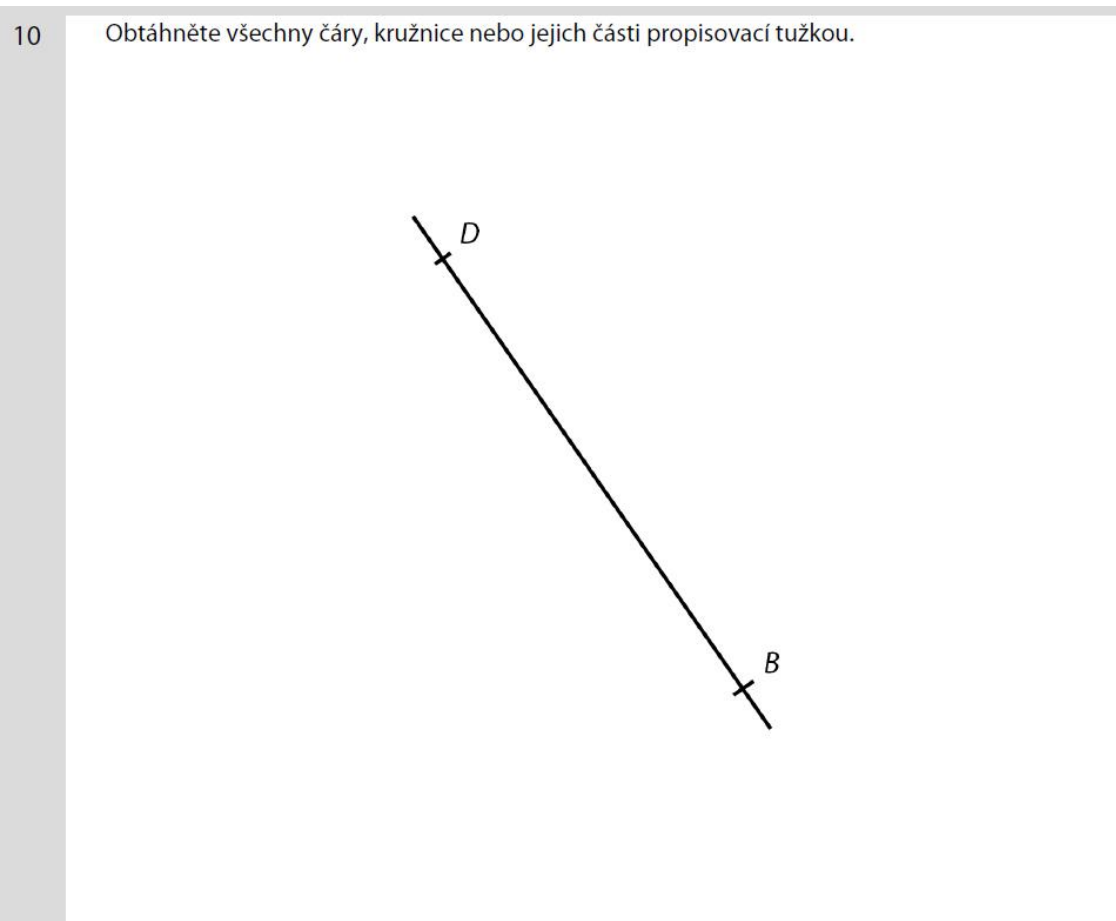
Doporučení: Rýsujte přímo do záznamového archu.



max. 2 body

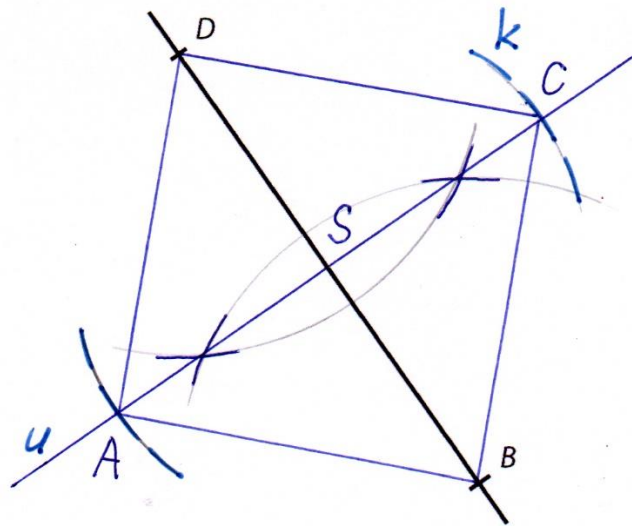
10 Sestrojte chybějící vrcholy A, C čtverce $ABCD$. Čtverec **narýsujte**.

V záznamovém archu obtáhněte všechny čáry, kružnice nebo jejich části **propisovací tužkou**.



Řešení 10

10 Obtáhněte všechny čáry, kružnice nebo jejich části propisovací tužkou.



Postup 10

- 1) S ; $S = \frac{B+D}{2}$... střed úsečky BD
- 2) u ; $u \perp BD$, $S \in u$
- 3) k ; $k(S; r = |SD|)$
- 4) A, C ; $A, C \in u \cap k$
- 5) čtverec $ABCD$

Diskuse 10

1 řešení

Záznamový arch

10

Obtáhněte všechny čáry, kružnice nebo jejich části propisovací tužkou.

